


НМТ 2024



ДЕМОНСТРАЦІЙНИЙ ВАРІАНТ

ПРАВИЛЬНІ ВІДПОВІДІ

ІСТОРІЯ УКРАЇНИ

ОБОВ'ЯЗКОВИЙ ПРЕДМЕТ

ЗАГАЛЬНА КІЛЬКІСТЬ ЗАВДАНЬ

30

ЗАВДАННЯ

20

з вибором однієї
правильної відповіді

0 або 1 бал

4

на встановлення
відповідності
("логічні пари")

0, 1, 2, 3
або 4 бали

3

на встановлення
правильної
послідовності

0, 1, 2
або 3 бали

3

з вибором 3-х
відповідей із 7-ми
запропонованих
варіантів

0, 1, 2
або 3 бали

МАКСИМАЛЬНА КІЛЬКІСТЬ
ТЕСТОВИХ БАЛІВ

54

історичний період, «Історія України (друга половина XVI – початок XXI ст.)»



Завдання 1–20 мають по чотири варіанти відповіді, з яких лише один правильний. Виберіть правильний, на Вашу думку, варіант відповіді й позначте його.

1 Яка подія відбулася в 1569 р.?

- А заснування першої Запорозької Січі на о. Мала Хортиця
- Б похід козаків під проводом П. Сагайдачного на Московське царство
- В об'єднання Великого князівства Литовського та Польського королівства
- Г укладення козацького реєстру польським королем Стефаном Баторієм

2 Географічні назви Базавлук, Микитин Ріг, Чортомлик, Олешки пов'язані з місцями

- А основних битв часів козацько-селянських повстань 20–30-х рр. XVII ст.
- Б розміщення турецьких фортець у гирлі Дніпра й Південного Бугу.
- В формування полків реєстрового козацтва.
- Г розміщення Запорозьких Січей.

3 Укажіть мистецьку пам'ятку, що увічніює провідника Національно-визвольної війни українського народу середини XVII ст.

А



Б



В



Г





4 Автором цитованого документа «...Договори наші... уклав я з Королем Шведським письмовим актом, підписаним з обох сторін... І тепер ми вважати повинні Шведів за своїх приятелів, союзників, добродіїв і немовби од Бога посланих, щоб увільнити нас від рабства... Відомо ж бо, що колись були ми ті, що тепер московці: уряд, первинність і сама назва Русь од нас до них перейшли...» був

- А П. Сагайдачний.
- Б І. Виговський.
- В І. Самойлович.
- Г І. Мазепа.

5 «Запорозькі козаки, – писав 1776 р. старшина В. Чернявський, – мають деякі поселення, де тримають худобу, коней й овець, мають пасіки, розводять сади й городи, роблять запаси сіна та худоби й засівають поля різним хлібом, ловлять звіра, а в річках – рибу».
Як козаки називали такі «поселення»?

- А зимівники
- Б паланки
- В повіти
- Г куріні

6 Коли на українських землях було засновано університет, якому імперська влада ставила завдання «поширювати російську освіту й російську національність в ополяченому краю Західної Росії...»?

- А 1805 р.
- Б 1834 р.
- В 1865 р.
- Г 1875 р.

7 Якого суспільно-політичного діяча називали «двічі арештованим», «буковинським королем», «народним послом до Відня»?

- А О. Довбуша
- Б У. Кармалюка
- В І. Вагилевича
- Г Л. Кобилицю



8 Якою цифрою на картосхемі позначено регіон товарного виробництва цукру наприкінці ХІХ – на початку ХХ ст.?

- А 1
- Б 2
- В 3
- Г 4



9 Боротьба за український університет стала важливим питанням політичної боротьби наприкінці ХІХ – на початку ХХ ст. для

- А Поділля.
- Б Східної Галичини.
- В Північної Буковини.
- Г Закарпаття.

10 Які однакові дії під час Першої світової війни застосовували російська та австрійська влади щодо українських земель, що входили до складу Австро-Угорщини?

- А заборона діяльності українських політичних партій
- Б тотальна мобілізація чоловічого населення до армії
- В депортація нелояльної частини населення
- Г боротьба з греко-католицькою церквою

11 Укажіть фото діяча, який 1917 р. активно пропагував українізацію частин Російської армії.



А



Б



В



Г



12 Укажіть одну з причин згасання антирадянського селянського повстанського руху в УСРР на початку 1920-х рр.

- А розгортання форсованої індустріалізації
- Б згортання «Великого терору»
- В припинення існування уряду УНР
- Г масовий голод у республіці

13 Провал планів партійно-радянського керівництва СРСР із хлібозаготівлі в Українській СРР 1932 р. призвів до запровадження на селі

- А терору голодом.
- Б системи раднаргоспів.
- В кампанії з розкуркулення.
- Г заходів зі згортання колективізації.

14 Ідеологічні гасла якої політичної сили відображено на плакаті й транспаранті?



- А Української національної партії (УНП)
- Б Організації українських націоналістів (ОУН)
- В Комуністичної партії Західної України (КПЗУ)
- Г Українського національно-демократичного об'єднання (УНДО)

15 Прочитайте уривок документа: *«Підготовча робота до евакуації та сама евакуація в'язниць у західних областях України розпочалася з 22 червня цього року. У чотирьох тюрмах утримували 5424 в'язні. У перший же день уторгнення німців в СРСР у тюрмах було виконано вироки щодо 108 в'язнів...»*

В'язні, про яких ідеться в уривку джерела, потрапляли до тюрем у результаті проведення

- А акції пацифікації.
- Б політики «осадництва».
- В режиму «нового порядку».
- Г політики «радянізації».



16 Коли відбулася подія, у результаті якої польська влада планувала здійснити поставлені завдання: «1. Залучити робочу силу для господарювання “повернутих земель”; 2. Остаточно підірвати життєву базу ОУН й УПА; 3. Асимілювати окремі родини етнічних українців у суцільній масі польського населення...»?


- А 1944 р.
- Б 1945 р.
- В 1946 р.
- Г 1947 р.

17 «...Завдання семирічки в галузі сільського господарства ми зможемо виконати за п'ять років... Розрахунки показують, що посіви кукурудзи мають орієнтовно складати 9–10 млн га і дорівнювати приблизно половині всієї площі зернових...»

Наведений уривок документа є свідченням реалізації

- А планів повоєнної відбудови України.
- Б однієї з надпрограм М. Хрущова.
- В заходів «реформ О. Косигіна».
- Г «Продовольчої програми».

18 Що призвело до виникнення в Українській РСР явища, на якому акцентує увагу карикатура?



– За продукцію своєї фабрики можете не хвилюватися. Її не бере ні міль, ні час, ні покупець.

- А тотальний дефіцит товарів широкого вжитку в торгівельній мережі
- Б директивне планування виробництва, розподілу й споживання товарів
- В низький рівень культури обслуговування покупців
- Г постійне зростання цін в державних закладах торгівлі



19 Прочитайте фрагмент історичного документа про зрушення в політичному та соціально-економічному розвитку Української РСР у період «перебудови».


«...Багато зараз незвичного в нашій країні: скажімо, багатомандатні округи з виборів до Рад; спільні з іноземними фірмами підприємства; самофінансування заводів та фабрик, радгоспів і колгоспів; зняття обмежень з підсобних господарств, ...розширення кооперативної діяльності; заохочення індивідуальної трудової діяльності в дрібному виробництві й торгівлі...»

Зазначені в документі зміни названо «незвичними», оскільки вони

- А йшли в розріз із комуністичною теорією.
- Б утверджували однопартійну систему.
- В створювали ілюзію економічного процвітання.
- Г були запроваджені як тимчасові.

20 Яке поняття треба використати, визначаючи головну ідею карикатури?

- А «геноцид»
- Б «шовінізм»
- В «колоніалізм»
- Г «анексія»



У завданнях 21–24 до кожного з чотирьох фрагментів інформації, позначених цифрою, доберіть один правильний, на Вашу думку, варіант, позначений буквою.

21 Узгодьте подію Національно-визвольної війни українського народу середини XVII ст. з роком, коли вона відбувалася.

- | | |
|-----------------------------|------------------|
| 1 Жванецька облога | А 1648 р. |
| 2 Зборівська битва | Б 1649 р. |
| 3 Берестецька битва | В 1651 р. |
| 4 Жовтоводська битва | Г 1652 р. |
| | Д 1653 р. |

| | А | Б | В | Г | Д |
|---|---|---|---|---|---|
| 1 | | | | | |
| 2 | | | | | |
| 3 | | | | | |
| 4 | | | | | |



22 Доберіть до кожного з видань його характеристику.

- | | |
|--|---|
| <p>1 «Енеїда» 2 «Історія Русів» 3 «Основа» 4 «Громада»</p> | <p>А перший український суспільно-політичний і літературно-мистецький журнал, що видавала українська громада 1861–1862 рр. у Петербурзі Б український громадсько-політичний і науково-літературний збірник, що видавав у Женеві Михайло Драгоманов у період 1878–1879 рр. та 1882 р. В одна з визначних пам'яток української історичної та суспільно-політичної думки другої половини XVIII – початку XIX ст., у якій обстоювано ідею автономного державного розвитку України Г перший твір у новій українській літературі, надрукований у Санкт-Петербурзі 1798 р. Д щомісячний історико-етнографічний і літературний часопис, що видавали в Києві російською й українською мовами протягом 1882–1906 рр.</p> |
|--|---|

| | А | Б | В | Г | Д |
|---|---|---|---|---|---|
| 1 | | | | | |
| 2 | | | | | |
| 3 | | | | | |
| 4 | | | | | |

23 Узгодьте ім'я історичної особи (постаті) з фактами її біографії.

- | | |
|--|---|
| <p>1 К. Левицький 2 Д. Донцов 3 Є. Коновалець 4 А. Жук</p> | <p>А співзасновник Української національно-демократичної партії, голова Державного секретаріату ЗУНР Б учасник боїв за гору Маківка, командир Галицько-Буковинського куреня січових стрільців В член Головної української ради, Загальної української ради, дипломат Української Держави, УНР Г співзасновник і голова Української національної партії на Буковині, Голова української національної громади в Румунії Д голова Союзу визволення України, теоретик та ідеолог українського націоналізму</p> |
|--|---|

| | А | Б | В | Г | Д |
|---|---|---|---|---|---|
| 1 | | | | | |
| 2 | | | | | |
| 3 | | | | | |
| 4 | | | | | |



24 Узгодьте описане явище соціально-економічного життя з періодом історії України, для якого воно було характерним.

1 *«Успішний розвиток України та збільшення національного багатства потребують тісної взаємодії держави й національного бізнесу. Потрібно більшу частину товарів, що їх використовують в Україні, виробляти всередині країни...»*

2 *«Прискорення соціально-економічного розвитку насамперед визначається необхідністю в перебудові структурної політики, форм і методів управління...»*

3 *«...Ми хотіли, щоб нам дали картки із централізованим забезпеченням населення якоюсь кількістю продуктів й організацію харчування тих, хто голодує...»*

4 *«Основна частина підприємств місцевого значення перейшла з підпорядкування союзних міністерств у підпорядкування обласних рад депутатів...»*

А Україна в перші повоєнні роки (1945 – початок 1950-х рр.)

Б Україна в умовах десталінізації (1953–1964 рр.)

В Україна в період загострення кризи радянської системи (1965 – перша половина 1980-х рр.)

Г Відновлення незалежності України (1985–1991 рр.)

Д Творення нової України (початок ХХІ ст. – сьогодення)

| | А | Б | В | Г | Д |
|---|---|---|---|---|---|
| 1 | | | | | |
| 2 | | | | | |
| 3 | | | | | |
| 4 | | | | | |

У завданнях 25–27 розташуйте події в хронологічній послідовності. Цифри 1 має відповідати вибрана Вами перша подія, цифри 2 – друга, цифри 3 – третя, цифри 4 – четверта.

25 Установіть послідовність зміни керівників найвищих державних інституцій України, що існували в першій половині ХХ ст.

- А** П. Скоропадський
- Б** М. Грушевський
- В** С. Петлюра
- Г** А. Волошин

| | А | Б | В | Г |
|---|---|---|---|---|
| 1 | | | | |
| 2 | | | | |
| 3 | | | | |
| 4 | | | | |



26 Установіть послідовність подій часів Другої світової війни, відображених на радянських плакатах.

А



Надати руку допомоги братнім народам Західної України та Західної Білорусії – наш священний обов'язок!

Б



ХАРКІВ РАДЯНСЬКИЙ!
ХАРКІВ НАШ – УКРАЇНСЬКИЙ!
ОБНІМІТЬСЯ БРАТИ УКРАЇНЦІ
В ДЕНЬ ВЕЛИКОГО СВЯТА

| | А | Б | В | Г |
|---|---|---|---|---|
| 1 | | | | |
| 2 | | | | |
| 3 | | | | |
| 4 | | | | |

В



УКРАЇНА ВІЛЬНА!

Г



НЕЩАДНО РОЗІБ'ЄМО
ТА ЗНИЩИМО ВОРОГА!
ДОГОВІР про ненапад між СРСР
та Німеччиною

27 Установіть послідовність подій періоду творення нової України.

- А** початок Євромайдану
- Б** вступ України до Світової організації торгівлі (СОТ)
- В** укладення Мінських домовленостей
- Г** підписання Україною Угоди про асоціацію з Європейським Союзом (ЄС)

| | А | Б | В | Г |
|---|---|---|---|---|
| 1 | | | | |
| 2 | | | | |
| 3 | | | | |
| 4 | | | | |



Завдання 28–30 мають по сім варіантів відповідей, з яких лише три правильні. Виберіть і запишіть три цифри, що позначають правильні, на Вашу думку, відповіді.

28 Визначте умови Білоцерківського договору 1651 р.

- 1 дозвіл короля на залучення ханом «для допомоги» Війська Запорозького
- 2 отримання шляхтою дозволу повернутися до своїх маєтків, зокрема до розміщених на козацьких територіях
- 3 виплата Гетьманщиною певної суми коштів до московської скарбниці
- 4 обмеження чисельності козацького реєстрового війська 40 тис. осіб
- 5 визнання козацькими територіями лише земель Київського воєводства
- 6 отримання Б. Хмельницьким підтвердження гетьманських повноважень і привілею на надання у володіння гетьману м. Чигирин
- 7 позбавлення гетьмана права дипломатичних зносин з іноземними державами

29 На фото зображено стилізовану композицію реверсу (зворотної сторони) монети, присвяченої видатному українському письменнику.

В центрі композиції художник розмістив портрет митця, праворуч і ліворуч від якого – рядки з вірша Т. Шевченка «...Поки сонце з неба сяє, Тебе не забудуть!..», півколом написи: угорі – ім'я митця, унизу – роки його життя.



З'ясуйте, сюжети та/або образи героїв яких творів доречно використати художнику під час створення стилізованої композиції аверсу (лицьової сторони) цієї монети.

- 1 «Енеїда»
- 2 «Гайдамаки»
- 3 «Запорожець за Дунаєм»
- 4 «Шельменко-денщик»
- 5 «Наталка Полтавка»
- 6 «Тарас Бульба»
- 7 «Москаль-чарівник»



30 Що стало результатом подій Другої світової війни, відображених на картосхемі?

- 1 утворення Червоною армією плацдармів на правому березі Дніпра
- 2 вигнання німецьких окупантів із Донбасу
- 3 депортація кримських татар та інших народів Криму
- 4 проголошення Акта відновлення Української держави
- 5 створення Української повстанської армії (УПА)
- 6 початок діяльності похідних груп ОУН
- 7 поява в лавах Червоної армії піхотних підрозділів, укомплектованих «чорносвитниками»





| № завдання | Правильна відповідь |
|-------------------|----------------------------|
| 1 | В |
| 2 | Г |
| 3 | Б |
| 4 | Г |
| 5 | А |
| 6 | Б |
| 7 | Г |
| 8 | Б |
| 9 | Б |
| 10 | В |
| 11 | Б |
| 12 | Г |
| 13 | А |
| 14 | Б |
| 15 | Г |
| 16 | Г |
| 17 | Б |
| 18 | Б |
| 19 | А |
| 20 | Г |
| 21 | 1–Д, 2–Б, 3–В, 4–А |
| 22 | 1–Г, 2–В, 3–А, 4–Б |
| 23 | 1–А, 2–Д, 3–Б, 4–В |
| 24 | 1–Д, 2–Г, 3–А, 4–Б |
| 25 | 1–Б, 2–А, 3–В, 4–Г |
| 26 | 1–А, 2–Г, 3–Б, 4–В |
| 27 | 1–Б, 2–А, 3–Г, 4–В |
| 28 | 257 |
| 29 | 157 |
| 30 | 127 |